























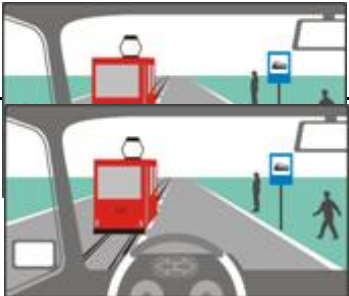







**тема: 10. СПИРКИ НА ПРЕВОЗНИТЕ СРЕДСТВА ОТ РЕДОВНИТЕ ЛИНИИ ЗА ОБЩЕСТВЕН ПРЕВОЗ НА ПЪТНИЦИ;
ЖИЛИЩНА ЗОНА**

точки	К	№	въпрос, отговори	графика
3		10/1.0	<p>Този пътен знак указва: начало на автобусна спирка край на автобусна спирка пресичане на път, по който се движат автобуси</p>	
3		10/1.1	<p>Този пътен знак: указва начало на автобусна спирка обозначава края на автобусна спирка предупреждава за пресичане на път, по който се движат автобуси указва пътна лента за движение само на автобуси</p>	
3		10/1.2	<p>С този знак се обозначава: автобусна спирка пътна лента за движение само на автобуси пътна лента, забранена за движение на автобуси пресичане на път, по който се движат автобуси</p>	
3		10/2.	<p>С този знак се обозначава: тролейбусна спирка пресичане на път, по който се движат тролейбуси лента за движение само на тролейбуси пътна лента, забранена за движение на тролейбуси</p>	
3		10/3.	<p>С този знак се обозначава: трамвайна спирка пресичане на трамвайна линия трамваен път вход/изход на трамваен път</p>	
3		10/4.	<p>Кой от тези пътни знаци сигнализира за спирка на превозни средства за обществен превоз на пътници?</p> <div style="display: flex; justify-content: space-around; align-items: center;"> <div style="text-align: center;"> а.</div> <div style="text-align: center;"> б.</div> <div style="text-align: center;"> в.</div> <div style="text-align: center;"> г.</div> </div>	
3		10/5	<p>При тази ситуация районът на спирката започва от пътният знак и е с дължина: 50 м 30 м 20 м 10 м</p>	
3		10/6	<p>В района на спирка, обозначена с този знак, е забранено: паркирането</p>	

			<p>спирането за товарно-разтоварни работи</p> <p>спирането за слизане и качване на пътници</p> <p>движението назад</p>	
3		10/7	<p>В района на спирка на превозните средства от редовните линии за обществен превоз на пътници, на други превозни средства е разрешено да спират за:</p> <p>слизане или качване на пътници, ако не пречат на превозните средства, за които е предназначена спирката</p> <p>паркиране</p> <p>извършване на товаро-разтоварна дейност</p>	
3		10/8.	<p>При тази ситуация, приближавайки към спрелия на спирката тролейбус трябва:</p> <p>своевременно да намаля скоростта</p> <p>да се движа с повишено внимание</p> <p>да имам готовност да спра в случай на необходимост</p> <p>да подам звуков сигнал</p>	
3		10/9.	<p>При тази ситуация, преминавайки покрай спрелия на спирката тролейбус:</p> <p>трябва да управлявам с готовност за спиране</p> <p>трябва да внимавам за пешеходци, преминаващи пред тролейбуса</p> <p>трябва да внимавам за пешеходци, преминаващи зад тролейбуса</p> <p>няма опасност от пресичащи пешеходци, защото няма пешеходна пътека</p>	
3		10/10.	<p>Навлизането на пешеходци на платното за движение, непосредствено пред спрелия автобус, е забранено и затова при тази ситуация не съм задължен да намаля скоростта.</p> <p>неправилно</p> <p>правилно</p>	
3		10/11.	<p>Кое от изброените действия ще предприемете в тази ситуация при разминаване с потеглящия от спирката автобус?</p> <p>намалявам скоростта</p> <p>управлявам с готовност за спиране</p> <p>подавам звуков сигнал</p> <p>увеличавам скоростта за по-бързо разминаване</p>	
3		10/12	<p>При тази ситуация, при преминаване покрай автобуса съм задължен да намаля скоростта.</p> <p>правилно</p> <p>неправилно</p>	
3		10/13.	<p>При тази ситуация:</p> <p>трябва да спра, ако преча на пешеходците да преминават през платното за движение</p> <p>мога да премина без да спирам, защото на платното за движение има очертан остров</p> <p>задължен съм да спра на 1 м зад трамвая</p> <p>заобикалям трамвая отляво</p>	

3		10/14.	<p>При тази ситуация, преминавайки покрай спрелия на спирката трамвай:</p> <p>трябва своевременно да намаля скоростта трябва да управлявам с готовност за спиране трябва да внимавам за поведението на пешеходците преминаващи през платното за движение</p> <p>няма опасност от пресичащи пешеходци, защото няма пешеходна пътека</p>	
3		10/15.	<p>При тази ситуация, преминавайки покрай спрелия на спирката трамвай трябва да се съобразявам с:</p> <p>пешеходците, които са на острова на платното за движение пешеходците, които слизат от трамвая или са на тротоара пешеходците, които пресичат платното за движение пред или зад трамвая</p> <p>с превозните средства, които се движат зад мен</p>	
3		10/16.	<p>При тази ситуация, настигайки спирацията на спирката трамвай, трябва:</p> <p>да спре</p> <p>да продължа движението с повишено внимание да увеличи скоростта</p>	
3		10/17.	<p>При тази ситуация увеличавам скоростта, за да премина по-бързо покрай спирацията трамвай.</p> <p>неправилно правилно</p>	
3		10/18.1	<p>При тази ситуация при приближаване към трамвайната спирка:</p> <p>трябва да спре, когато трамваят е спрял на спирката трябва да спре, когато трамваят спира на спирката</p> <p>не съм задължен да намаля скоростта, когато трамваят потегля от спирката</p>	
3		10/19.	<p>При тази ситуация:</p> <p>задължен съм да спре на 1 м зад трамвая</p> <p>трябва да спре, ако преча на пешеходците да преминават през платното за движение заобикалям трамвая отляво</p>	
3		10/20.	<p>При тази ситуация преминавам, без да спирам покрай спрелия на спирката трамвай, защото той е със затворени врати.</p> <p>неправилно правилно</p>	
3		10/21.	<p>При тази ситуация след като няма слизачи и качващи се пътници, задължени ли сте да спрете?</p> <p>ла</p>	

			да не	
3		10/22.	<p>При тази ситуация, когато трамваят е спрял на спирка и на платното за движение няма пешеходци:</p> <p>трябва да спре на 1 м зад трамвая</p> <p>мога да премина покрай трамвая без да спирам</p> <p>заобикалям трамвая отляво</p>	
3		10/23.	<p>При тази ситуация длъжни ли сте да намалите скоростта за да улесните потеглянето на автобуса от спирката?</p> <p>да не</p>	
3		10/24.	<p>При тази ситуация, за да улесня потеглящия от спирката автобус, трябва:</p> <p>да намалая скоростта</p> <p>при необходимост да спра</p> <p>да премина в съседната пътна лента</p> <p>да премина по-бързо покрай автобуса</p>	
3		10/25.	<p>Значението на този пътен знак е:</p> <p>начало на жилищна зона</p> <p>начало на населено място</p> <p>начало на жилищен комплекс</p> <p>площадка за игра на деца</p>	
3		10/26.	<p>Правилата за движение в жилищна зона, обозначена с този пътен знак, са валидни:</p> <p>до пътен знак "Край на жилищната зона"</p> <p>до следващото кръстовище</p> <p>до края на населеното място</p> <p>до пътен знак „Край на забраните въведени с пътни знаци"</p>	
3		10/27.	<p>Паркирането в жилищна зона, обозначена със съответния пътен знак, е разрешено:</p> <p>само на специално обозначените за това места</p> <p>в най-дясната пътна лента</p> <p>най-вдясно на пътното платно</p> <p>най-вдясно на платното за движение</p>	
3		10/28.	<p>В жилищна зона обозначена със съответния пътен знак, водачите на МПС трябва да се движат със скорост не по-висока от:</p> <p>20 км/ч</p> <p>30 км/ч</p> <p>40 км/ч</p> <p>50 км/ч</p>	
3		10/29.	<p>В жилищна зона, обозначена със съответния пътен знак, движението на пешеходци върху платното за движение е:</p> <p>разрешено</p> <p>забранено във всички случаи</p>	

			забранено, винаги когато пречат на движението на МПС	
		10/30.	В жилищна зона, обозначена със съответния пътен знак, е разрешено: движение на пешеходци по платното за движение на децата да играят на платното за движение паркиране извън специално обозначените за това места движение със скорост 40 км/час	
3		10/31.	Водачът на МПС, при излизане от обозначена с пътен знак жилищна зона: е длъжен да пропусне ППС идващи по пътя отдясно е длъжен да пропусне ППС идващи по пътя отляво е с предимство	